

## 绵阳富乐中学 2018 年小升初试卷

## 一、填空题（每空 2 分，共 28 分）

1、三亿六千零五十九万七千二百写作（ ），省略“亿”后面的尾数约是（ ）。

2、把一个最简分数的分子扩大 2 倍，分母缩小 2 倍后等于  $2\frac{4}{5}$ ，这个分数是（ ）。

3、把一个高为 16 厘米的圆柱截成两个小圆柱，表面积之和比原来圆柱的表面积多 12 平方厘米，原来圆柱的体积是（ ）立方厘米。

4、甲数的  $\frac{2}{5}$  与乙数的  $\frac{2}{7}$  相等，甲、乙两数的最简整数比是（ ）。

5、正方体棱长总和是 48 分米，它的表面积是（ ），体积是（ ）。

6、一个圆柱的底面半径是 5cm，侧面展开是一个正方形，这个圆柱的体积是（ ）。（ $\pi$  取 3）

7、一根绳子，如果剪去它的  $\frac{1}{4}$ ，还剩 3 米，如果剪去  $\frac{1}{4}$  米，还剩（ ）米。

8、鸡、兔共 30 只，如果鸡有  $a$  只，有（ ）只兔脚。

9、一个数的  $\frac{1}{5}$  是  $\frac{1}{2}$ ，它的 25% 是（ ）。

10、六（1）班有 50 人参加体育达标测试，有 2 人不合格，合格率是（ ）。

11、自然数  $a$  除自然数  $b$ ，商是 18， $a$  与  $b$  的最小公倍数是（ ）。

12、如右图，长方形与圆的面积相等，圆的周长是 12.56cm，阴影部分的面积是（ ） $cm^2$ 。（ $\pi$  取 3.14）

## 二、选择题（每小题 2 分，共 18 分）

1、某校男生人数比女生人数多  $\frac{1}{4}$ ，那么男生人数是全校人数的（ ）。

A、 $\frac{5}{4}$  B、 $\frac{4}{9}$  C、 $\frac{5}{9}$

2、数对（4，6）和（6，6）表示的位置是（ ）。

A、同一列 B、同一行 C、无法确定

3、把一根钢管锯成 5 段需 20 分钟，如果把它锯成 8 段需（ ）。

A、32 分钟 B、40 分钟 C、35 分钟

4、一个人登山，上山用了 15 分钟，下山时速度加快了  $\frac{1}{4}$ ，下山用了（ ）分钟。

A、13 B、12 C、11

5、从甲地开往乙地，客车要 10 小时，货车要 15 小时，客车与货车的速度比是（ ）。

A、2: 3 B、3: 2 C、2: 5

6、一个圆锥与一个圆柱的体积相等，底面积也相等，圆锥的高是 12 厘米，圆柱的高是（ ）厘米。

A、4 B、12 C、36

7、甲数的  $\frac{1}{3}$  和乙数的  $\frac{1}{4}$  的比是 3: 0.75，乙数和甲数的最简整数比是（ ）。

A、4: 1 B、3: 1 C、1: 3  
D、1: 4

8、甲商场以打 8 折优惠，乙商场以满 100 元送 20 元购物券优惠。张阿姨打算花掉 500 元，在（ ）商场购物更加合算。

A、甲 B、乙 C、都一样

9、A 比 B 多 2 倍，B 比 C 多 C 的  $\frac{1}{2}$ ，则 A: B: C=（ ）。

A、3: 1: 2 B、2: 1: 3 C、3: 1: 6  
D、9: 3: 2

## 三、判断题（每小题 2 分，共 10 分）

1、4 比 5 少 20%，就是 5 比 4 多 25%。（ ）

2、一个自然数没有比它本身再大的因数。（ ）

3、 $x$ ， $y$ （ $x$ ， $y$  不为 0）是两种相关联的量，若  $3x=5y$ ，则  $x$ 、 $y$  成反比例。（ ）

4、 $a$  比一个数的 2 倍还多 3，这个数是  $(a-3)\div 2$ 。（ ）

5、一个三角形三个内角度数的比是 1: 2: 3，这个三角形最小的锐角是  $30^\circ$ 。（ ）

## 四、计算题（共 32 分）

1、直接写出得数：（每题 1 分，共 8 分）

$$\frac{2}{3} + \frac{1}{4} = \quad 5.05 - 0.5 = \quad 42 \div \frac{7}{4} =$$

$$\frac{8}{9} \times \frac{27}{32} =$$

$$12 \times (\frac{1}{3} - \frac{1}{4}) =$$

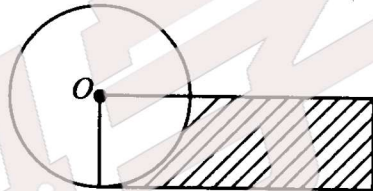
$$4 \times \frac{1}{2} \div 4 \times \frac{1}{2} =$$

$$400 \times 5\% =$$

$$3.4 \times 25 \times 4 =$$

2、脱式计算（能简算的要简算）（每小题 3 分，共 18 分）

$$(1) \frac{4}{7} + \frac{1}{5} - \frac{3}{7} + \frac{4}{5} \quad (2) \quad$$



$$(3) 6 \times 0.375 + 0.375 \times 3 + 3.75 \times 1.1$$

$$(4) \frac{2006}{2007} \times 2008$$

$$(5) 2.5 \times 1.25 \times 32$$

$$(6) \quad$$

$$\frac{1}{1 \times 2} + \frac{1}{2 \times 3} + \frac{1}{3 \times 4} + \dots + \frac{1}{99 \times 100}$$

3、解方程（每小题 3 分，共 6 分）

$$(1) \frac{x}{5} + 6 = 7\frac{1}{2}$$

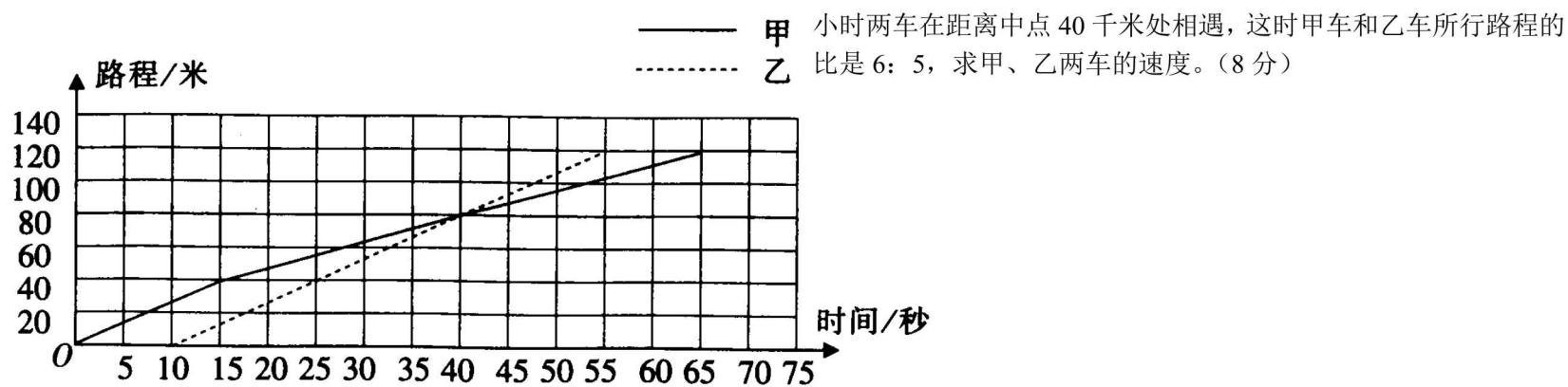
$$(2) x : \frac{10}{7} = 0.4 : 12$$

## 五、看图填空（5 分）

甲、乙两人比赛 120 米滑雪。乙让甲先滑 10 秒。他们两人滑的路程与时间的关系如下图。



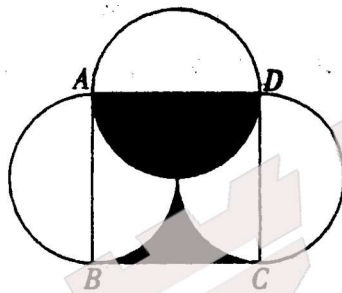
关注VV升学官微



- 1、在整个滑雪过程中，( ) 滑行的路程和时间成正比例。
- 2、前 15 秒，甲平均每秒滑行 ( ) 米；后 50 秒甲平均每秒滑行 ( ) 米；甲滑完全程的平均速度是每秒 ( ) 米。
- 3、乙平均每秒滑行 ( ) 米。

六、求图中阴影部分的面积。(4 分)

$r = 4$  厘米，求图中阴影部分的面积 (单位：厘米)



七、应用题 (共 23 分)

- 1、六 (1) 班原有学生 35 人，其中男生占  $\frac{3}{7}$ 。后来转来女生若干人，这时男生与女生人数的比是 3: 5。现在全班有多少人? (7 分)

- 2、计划生产一批零件，甲单独做需要 10 小时，乙单独做需 12 小时，甲、乙两人合作生产 8 小时，结果比计划多生产 420 个零件，计划生产零件多少个? (8 分)

- 3、甲、乙两辆汽车同时分别从 A、B 两个城市相对开出，经过 5



关注VV升学官微



题  
如  
要  
不  
内  
线  
封  
密

一、阅读与理解。(42分)

父亲的眼神

(1)一个背影，让朱自清 shān 然泪下；一个眼神，让我终生悚然汗下。

(2)那是在我上高中时，尽管我的语文、英语成绩居班里前几名，但是数理化成绩却出奇的差。在这样的情况下，自己估计高考肯定无望，因此，高一期末考试后，我彻底失望，决定回家务农。

(3)因自觉慚 kuì，回到家后听说父亲正在田里拔草，我赶紧戴上草帽，赶到田里帮忙。学都上不好，再不勤快一点，会被人骂为“混混”的。顶着烈日，到了田里，我告诉父亲，不想再上学，反正学不好了，还不如回家种田。

(4)我以为父亲会悻然大怒，因为母亲去逝较早，这些年来他节衣缩食，对我寄予了很大的希望，当了一辈子的“睁眼瞎”，他不想我走他的老路。但是，父亲始终埋着头，并不理会我，好像并没有听我讲的话。我不敢再说话了，只好随着他卖力地拔草。近晌午的太阳很毒，汗水不住地渗出来，衣服贴在身上，抬起头，父亲仍然在埋头拔草，我怎好意思停下来。

(5)中午，回家吃饭，父亲仍然没有就我辍学的事发表意见。让我说什么好？情况很不妙，我知道，越是在闷热干燥的夏日午后，越会有突如其来地狂风暴雨。这即将燃烧的沉默，真让我忐忑不安。

(6)这时父亲对我说：“走吧，去地里把瓜秧翻一下，要不来年地就没收成了。”我爽快地拿起锄头就走。我就不信，父亲能干，自己就不行！

(7)夏日午后的太阳实在太厉害了，汗水把我迷糊得睁不开眼睛。要在学校，正是午睡的时候，而现在；我早已经呵欠连天了。看看我的老父亲，光着黑黝黝的 jǐ 梁，仍在埋头翻秧——趁着父亲不注意，我跑到树荫底下枕着锄头就睡着了。

(8)好像没过多大一会儿，我就被父亲推醒。睁开眼，我看到父亲冷冷的眼神，那眼神很复杂，既有悲哀、绝望，更有期盼和激励，还有许多我一下子读不出的内容……

(9)“娃儿，种庄稼也像做学问，如果你不上心，啥子事情都干不好。你在地头睡觉，庄稼也会在田里‘睡觉’……”

(10)父亲的眼神让我受不了，我的后脊早已经汗流下来了，不是热汗，是冷汗。

(11)当天晚上，回到家，我觉得浑身骨头都散了。摸着胳膊上已经晒脱了皮的地方，我的心乱成一锅粥。

(12)第二天早上，天刚刚蒙蒙亮，父亲又轻轻把我叫醒。一睁眼，除了看见他瘦弱的躯体、苍老的面容外，又是那特有的眼神。想到父亲近 70 岁了，身体多病，为供我读书，每天仍在田间地头躬亲劳作，毫无怨言……这时，我突然坐起来，大声地喊了一句：“我要上学！”

(13)后来的事情变得很简单。高考后，我上了大学中文系。再后来，到电视台当上了一名记者。

(14)因为远离了家乡，远离了父亲，所以那熟悉的眼神始终占据了记忆。今夜回想起来，仍然 yì 制不住自己汹涌的感情。走到院子外，望着深邃的苍穹和满天的繁星，我不得喃喃自语：“山一样沉默的父亲啊，你的期盼，你的鞭策，你的激励，终于成就了今天的我，我永远也忘不了你的眼神！”

1.注拼音，写汉字。(10分)

shān( )然泪下 黑黝黝( ) 深邃( ) 苍穹( )

慚 kuì ( )

jī ( )梁 晌 ( )午 yì ( )制不住 渗 ( )

出来 辍 ( )学

2.第(4)(5)段中有四个错别字，请找出来改正。(4分)

改为 改为 改为 改为

3.结合上下文解释下列加点词的意思。(3分)

(1)当了一辈子的“睁眼瞎”，他不想我走他的老路。睁眼瞎：\_\_\_\_\_

(2)这即将燃烧的沉默，真让我忐忑不安。燃烧：\_\_\_\_\_

(3)近晌午的太阳很毒，汗水不住地渗出来。毒：\_\_\_\_\_

4.文中“我”的思想行为经历了四个阶段，请根据提示分别概括出来。(6分)

①\_\_\_\_\_

②随着父亲去田里拔草，翻瓜秧睡着。

③\_\_\_\_\_

④\_\_\_\_\_

5.说说下列句子的含义。(4分)

① 我知道，越是在闷热干燥的午后，越会有突如其来地狂风暴雨。

② 你在地头睡觉，庄稼也会在田里“睡觉”……

6.全文关于父亲的文字不多，尤其是他的语言只有一句“娃儿，种庄稼也像做学问，如果你不上心，啥子事情都干不好。你在地头睡觉，庄稼也会在田里睡觉……”，从这里可以看出父亲是个什么样的人？这里的省略号有何作用？(2分)

7.文中有句话“那眼神很复杂，既有悲哀、绝望，更有期盼和激励，还有许多我一下子读不出的内容……”，作为读者，你认为最应该从这眼神里读出什么？(2分)

8.第(6)段运用了\_\_\_\_\_描写方法、\_\_\_\_\_描写方法和\_\_\_\_\_描写方法。(3分)

9.第(12)段中除了写“那特有的眼神”外，还写到了“瘦弱的身躯”“苍老的面容”以及“近 70 岁了，身体多病，为供我读书，每天仍在田间地头躬亲劳作，毫无怨言……”，从这里可以看出“我”内心对父亲充满了什么样的感情？(2分)

10.全文以“父亲的眼神”为题，却略写这部分内容而详写在家务农一段，是否文不对题？为什么？(3分)

11.第(14)段中有一个句子有语病，请找出来并用修改符号在原文中加以修改。(1分)

12.你有过受到挫折想放弃的时候吗？请写下一句鼓励自己的名言警句和古诗。(2分)

名言警句：\_\_\_\_\_

古

诗：\_\_\_\_\_。

www.vvs

