

一、我会算一算。(共 24 分)

$2+6=$        $17-3=$        $7+8=$        $10-8=$

$0+7=$        $9+5=$        $8-5=$        $6+11=$

$15-5=$        $6+6=$        $5+8=$        $9-9=$

$7-4=$        $13+6=$        $12-10=$        $7+5=$

$2+4-0=$        $16-2-3=$        $5+3+3=$        $10-5+2=$

二、我会填一填。(共 30 分)

1. 看图写数。



2. 12 里面有 ( ) 个十和 ( ) 个一。

3. 6 个一和 1 个十合起来是 ( )。

4. 数一数，填一填。

5	7			13
---	---	--	--	----

	19		17	16
--	----	--	----	----

5. 在○里填上“>”“<”或“=”。

$17 \bigcirc 16$

$9+5 \bigcirc 15$


$17-7 \bigcirc 17-10$

$3 \bigcirc 13$

$14-3 \bigcirc 11$

$8+4 \bigcirc 5+8$

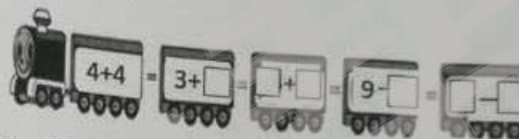
6.



(1) 从左数， 是第 ( ) 个；从右数， 是第 ( ) 个。

(2) 左边第二个是谁？请把它圈起来。

7. 开火车。



8. 画一画，填一填。

$\square\square\square \quad \underline{\hspace{1cm}} \quad 3 + ( ) = 7$

$\triangle\triangle\triangle\triangle \quad \underline{\hspace{1cm}} \quad 4 + ( ) = 6$

9. 淘气这样表示 13: ，你能用跟他一样的方法表示 11 吗？

10. 计算  $7+5$ ，下面是笑笑的想法，她是怎么圈的呢？圈一圈。

想:  $5+5=10$ ,  $10+2=12$ 。



11. 猜一猜：它住在小兔上面；它不在最上面。请把它圈出来。

三、我会比一比。(共 4 分)

1. 重的画√，轻的画○。



2. 最长的画√，最短的画○。



四、我会分一分，把每小题中与其它不同的圈出来。(4分)



五、我会连一连。(5分)



长方体 正方体 圆柱 球

六、我会认一认。(4分)



( )时



( )时半



( )时半



( )时

七、我会看图写算式。(4分)



$$\square + \square = \square$$

$$\square - \square = \square$$

八、我会解决问题。(共25分)


1、一共有10只。



7只

$$\square \bigcirc \square = \square$$

2、一共有多少只?



$$\square \bigcirc \square = \square$$

3、



摘走2个，还剩几个?

$$\square \bigcirc \square = \square$$

4、一共有多少个?



$$\square \bigcirc \square \bigcirc \square = \square$$

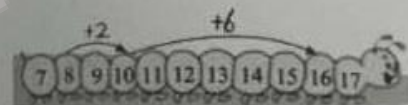
5、



$$\square \bigcirc \square \bigcirc \square = \square$$

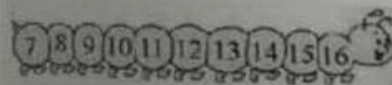
附加题：(每题10分，共20分。)

1、(1)看一看，填一填。



$$8 + 8 = 8 + \square + \square = \square$$

(2)利用这样的方法，可以解决更难的问题。画一画，算一算。



$$15 - 7 = 15 - \square - \square = \square$$

2、10个小朋友排队，小明的前面有6个人，那么小明的后面有几个人?(可以先画图哦!)