

三性教育资料

龙泉驿区 2018—2019 学年度上期末学业质量监测

三年级数学口算题单

时间:5 分钟

2019.01

操作:老师提示学生把答案写在正卷相应的表格里,5 分钟老师收题单。

分值:15 分,正确的每题 0.5 分。

① $800-500$	② $3800+4$	③ 97×2	④ $52+670$	⑤ $9.3 \text{ 元}+13.2 \text{ 元}$
⑥ 0×8	⑦ $96 \div 3$	⑧ $54-28$	⑨ 143×2	⑩ $450-260$
⑪ $66 \div 2$	⑫ 5×40	⑬ $8.7-2.4$	⑭ $2.4+1.5$	⑮ $630 \div 9$
⑯ $97-7$	⑰ $695-269$	⑱ $46+50$	⑲ $770 \div 7$	⑳ $7.4 \text{ 米}-4.5 \text{ 米}$
㉑ $482 \div 2$	㉒ $93+18$	㉓ $6.6-5.7$	㉔ $3.27+1.56$	㉕ $80 \div 8$
㉖ 215×3	㉗ 31×3	㉘ 80×6	㉙ $100-70$	㉚ $72 \div 4$

2019.01

总分
100

2.在()里填上适当的数。

10元6分=()元

300分=()时

闰年=()天

1.45元=()元()角()分

180厘米=()米()厘米

3.“三千零二”写作()

，“30.08”读作()。

4.计算“ $45 \div (360 - 355)$ ”时，应先算()

，再算()。

5.淘气5分钟可以打63个字，他15分钟大约可以打()个字。

6.一个箱子可以装4盒玩具，要把89盒玩具全部装在箱子里，至少需要()个箱子。

7.小明从学校到家要走23分，他17:40到家。小明下午()时()分从学校出发。

三、计算(23分)

得分		阅卷人	
----	--	-----	--

1.用竖式计算，前两题要验算。

$$367 + 248 =$$

验算

$$10.4 \text{元} - 2.6 \text{元} =$$

验算

$$7 \times 78 =$$

www.vvsxb.com

2.脱式计算。

$$654 - 230 - 170$$

$$(687 + 249) \div 3$$

$$845 - 45 \times 2$$

$$203 \times 3 \times 4$$

$$773 - (473 - 289)$$

$$329 + 146 \div 2$$

考号

姓名

班

年级

学校

镇(乡)

线

封

密

题 答 不 准 线 内 封 密

三性教育资料

龙泉驿区2018—2019学年度上期末学业质量监测

三年级数学卷

2019.01

题号	一	二	三	四	五	六	总分
分值	15	15	23	12	15	20	100
得分							

说明:1. 监测日期:2019年1月11日,时间:80分钟。

2. 满分100分。

65 知识与技能

一、口算(15分)

得分

阅卷人

①	②	③	④	⑤
⑥	⑦	⑧	⑨	⑩
⑪	⑫	⑬	⑭	⑮
⑯	⑰	⑱	⑲	⑳
㉑	㉒	㉓	㉔	㉕
㉖	㉗	㉘	㉙	㉚

二、填空(15分)

得分

阅卷人

1.在下面○里填上“>”“<”或“=”。

$$3.27 \text{元} \bigcirc 6.45 \text{元} \quad 900 \times 3 \bigcirc 900 \div 3 \quad 376 + 245 \bigcirc 274 \times 3$$

$$8082 \bigcirc 80.82 \quad 97 \bigcirc 450 \div 5 \quad 450 \times 4 \bigcirc 420 + 420 + 420 + 420$$

3.列式计算。



8乘90的积再加390,
和是多少?

640减320除以8的商,
差是多少?



四、数学应用(12分)

得分

阅卷人

1.妈妈带了 元,笑笑带了 元。一共带了多少元?



妈妈带的钱




笑笑带的钱

2.柳树有多少棵?

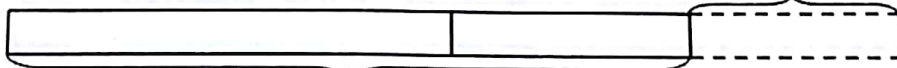
127棵

杨树:



比杨树的2倍少59棵

柳树:



? 棵

3.光明小区有13栋房子,每栋6层,每层住2户。光明小区最多可以住多少户?

15 思考与操作

五、动手操作(15分)

得分

阅卷人

1.画图表示“ 45×6 ”的意思。

2.连一连。

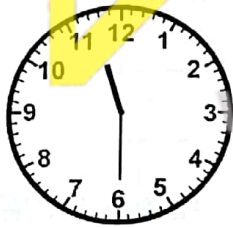
(1)把时刻与对应的钟面连起来。

上午 8:55

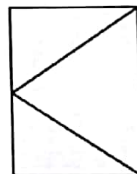
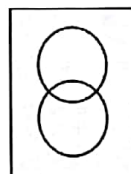

下午 1:30

下午 4:02

中午 11:30



(2)观察物体。



3. 下面是一个月的月历, 有4个日期被淘气遮住了, 他用 A_1 、 A_2 、 B_1 、 B_2 表示。

周一	周二	周三	周四	周五	周六	周日
	1	2	3	4	5	6
7	8	A_1	A_2	11	12	13
14	15	B_1	B_2	18	19	20
21	22	23	24	25	26	27
28	29	30	31			

(1) 这个月可能是()月。

(2) 判断。在正确的说法后面画“√”, 在错误的说法后面画“×”。

淘气说: 横着看, A_1 比 A_2 小 1。()

笑笑说: 竖着看, A_1 比 B_1 小 1。()

妙想说: 斜着看, B_1 比 A_2 大。()

奇思说: 斜着看, $A_1 + B_2 = A_2 + B_1$ ()

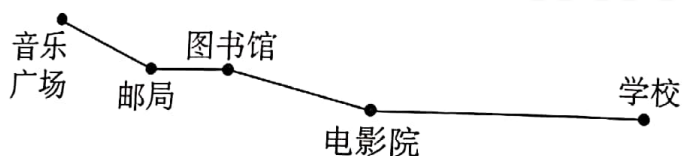
20 问题与策略

六、解决问题(20分)

得分

阅卷人

1.

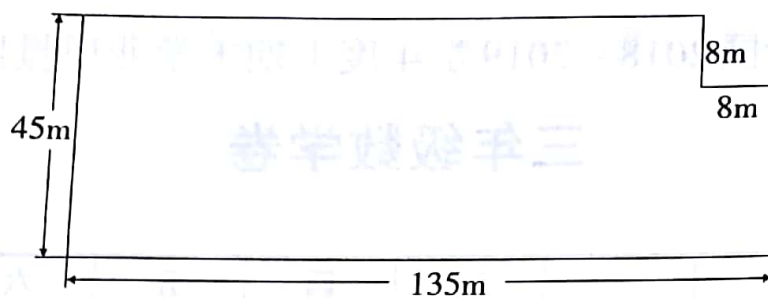


	路程/米
音乐广场—邮局	149
音乐广场—图书馆	266
音乐广场—电影院	482
音乐广场—学校	876

(1) 图书馆到学校有多少米?

(2) 如果淘气平均每分钟走 70 米, 8 分钟能从图书馆走到学校吗?

2.农民伯伯有一块菜地(如下图)。



(1)他要把菜地围上篱笆,围一圈至少需要篱笆多少米?

(2)围3米篱笆需要9元,农民伯伯需要用多少元?

3.根据下面2月的月历,完成下题。

2月						
周日	周一	周二	周三	周四	周五	周六
					1	2
3	4	5	6	7	8	9
10	11	12	13	14	15	16
17	18	19	20	21	22	23
24	25	26	27	28		

(1)这一年有()天。

(2)这一年的劳动节是星期 。(可以画一画,也可以算一算。)

龙泉驿区 2018—2019 学年度上期末学业质量监测

三年级数学卷

2019.01

题号	一	二	三	四	五	六	总分
分值	15	15	23	12	15	20	100
得分							

说明: 1. 监测日期: 2019 年 1 月 11 日, 时间: 80 分钟。
2. 满分 100 分。

65 知识与技能

一、口算(15分)

得分

阅卷人

① 300	② 3804	③ 194	④ 122	⑤ 22.5元
⑥ 0	⑦ 32	⑧ 26	⑨ 286	⑩ 190
⑪ 33	⑫ 200	⑬ 6.3	⑭ 3.9	⑮ 70
⑯ 90	⑰ 426	⑱ 96	⑲ 110	⑳ 2.9米
㉑ 241	㉒ 111	㉓ 0.9	㉔ 4.83	㉕ 10
㉖ 645	㉗ 93	㉘ 480	㉙ 30	㉚ 18

二、填空(15分)

得分

阅卷人

1. 在下面 ○ 里填上“>”“<”或“=”。

$3.27 \text{ 元} < 6.45 \text{ 元}$

$900 \times 3 > 900 \div 3$

$376 + 245 < 274 \times 3$

$8082 > 80.82$

$97 > 450 \div 5$

$450 \times 4 > 420 + 420 + 420 + 420$

2.在()里填上适当的数。

$10\text{元}6\text{分}=(10.06)\text{元}$

$300\text{分}=(5)\text{时}$

$\text{闰年}=(366)\text{天}$

$1.45\text{元}=(1)\text{元}(4)\text{角}(5)\text{分}$

$180\text{厘米}=(1)\text{米}(80)\text{厘米}$

3.“三千零二”写作(3002),“30.08”读作(三十点零八)。

4.计算“ $45 \div (360 - 355)$ ”时,应先算(减法),再算(除法)。

5.淘气5分钟可以打63个字,他15分钟大约可以打(189)个字。

6.一个箱子可以装4盒玩具,要把89盒玩具全部装在箱子里,至少需要(23)个箱子。

7.小明从学校到家要走23分,他17:40到家。小明下午(5)时(17)分从学校出发。

三、计算(23分)

得分

阅卷人

1.用竖式计算,前两题要验算。

$367 + 248 = 615$

$$\begin{array}{r} 367 \\ + 248 \\ \hline 615 \end{array}$$

验算

$$\begin{array}{r} 615 \\ - 248 \\ \hline 367 \end{array}$$

$10.4\text{元} - 2.6\text{元} = 7.8\text{元}$

$$\begin{array}{r} 10.4 \\ - 2.6 \\ \hline 7.8 \end{array}$$

$$\begin{array}{r} 7.8 \\ + 2.6 \\ \hline 10.4 \end{array}$$

验算

$7 \times 78 = 546$

$$\begin{array}{r} 78 \\ \times 7 \\ \hline 546 \end{array}$$

2.脱式计算。

$$\begin{aligned} &654 - 230 - 170 \\ &= 424 - 170 \\ &= 254 \end{aligned}$$

$$\begin{aligned} &(687 + 249) \div 3 \\ &= 936 \div 3 \\ &= 312 \end{aligned}$$

$$\begin{aligned} &845 - 45 \times 2 \\ &= 845 - 90 \\ &= 755 \end{aligned}$$

$$\begin{aligned} &203 \times 3 \times 4 \\ &= 609 \times 4 \\ &= 2436 \end{aligned}$$

$$\begin{aligned} &773 - (473 - 289) \\ &= 773 - 184 \\ &= 589 \end{aligned}$$

$$\begin{aligned} &329 + 146 \div 2 \\ &= 329 + 73 \\ &= 402 \end{aligned}$$

3.列式计算。



8乘90的积再加390，
和是多少？

$$8 \times 90 + 390 = 1110$$

640减320除以8的商，
差是多少？

$$640 - 320 \div 8 = 600$$



四、数学应用(12分)

得分

阅卷人

1.妈妈带了 50.3 元，笑笑带了 0.7 元。一共带了多少元？



妈妈带的钱



笑笑带的钱

$$50.3 + 0.7 = 51(\text{元})$$

2.柳树有多少棵？

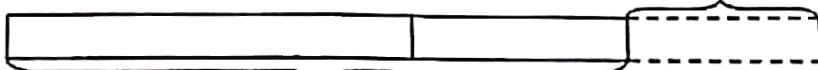
127 棵

杨 树：



比杨树的2倍少59棵

柳 树：



? 棵

$$127 \times 2 - 59 = 195(\text{棵})$$

3.光明小区有13栋房子，每栋6层，每层住2户。光明小区最多可以住多少户？

$$2 \times 6 \times 13 = 156(\text{户})$$

15 思考与操作

五、动手操作(15分)

得分

阅卷人

1. 画图表示“ 45×6 ”的意思。

2. 连一连。

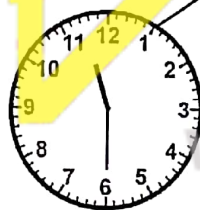

(1) 把时刻与对应的钟面连起来。

上午 8:55

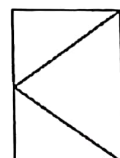
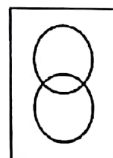

下午 1:30

下午 4:02

中午 11:30



(2) 观察物体。



三年级数学卷第4页



由 扫描全能王 扫描创建

3. 下面是一个月的月历, 有4个日期被淘气遮住了, 他用 A_1 、 A_2 、 B_1 、 B_2 表示。

周一	周二	周三	周四	周五	周六	周日
	1	2	3	4	5	6
7	8	A_1	A_2	11	12	13
14	15	B_1	B_2	18	19	20
21	22	23	24	25	26	27
28	29	30	31			

(1) 这个月可能是(1, 2, 5, 7, 8, 10, 12)月。

(2) 判断。在正确的说法后面画“√”, 在错误的说法后面画“×”。

淘气说: 横着看, A_1 比 A_2 小 1。(√)

笑笑说: 竖着看, A_1 比 B_1 小 1。(×)

妙想说: 斜着看, B_1 比 A_2 大。(√)

奇思说: 斜着看, $A_1 + B_2 = A_2 + B_1$ 。(√)

20 问题与策略

六、解决问题(20分)

得分

阅卷人

1.



	路程/米
音乐广场—邮局	149
音乐广场—图书馆	266
音乐广场—电影院	482
音乐广场—学校	876

(1) 图书馆到学校有多少米?

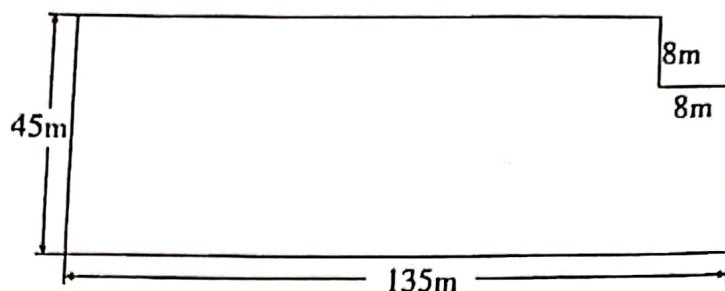
$$876 - 266 = 610(\text{米})$$

(2) 如果淘气平均每分钟走 70 米, 8 分钟能从图书馆走到学校吗?

$$70 \times 8 = 560(\text{米})$$

$$560 \text{ 米} < 610 \text{ 米} \quad \text{不能}$$

2.农民伯伯有一块菜地(如下图)。



(1)他要把菜地围上篱笆,围一圈至少需要篱笆多少米?

$$(45+135) \times 2 = 360 \text{ (米)}$$

(2)围3米篱笆需要9元,农民伯伯需要用多少元?

$$9 \div 3 = 3 \text{ (元)}$$

$$360 \times 3 = 1080 \text{ (元)}$$

3.根据下面2月的月历,完成下题。

2月						
周日	周一	周二	周三	周四	周五	周六
					1	2
3	4	5	6	7	8	9
10	11	12	13	14	15	16
17	18	19	20	21	22	23
24	25	26	27	28		

(1)这一年有(365)天。

(2)这一年的劳动节是星期 三。(可以画一画,也可以算一算。)

3月:31日

3月1日:五

4月:30日

顺序:五、六、日、一、二、三、四

5月:1日

$$(31+30+1) \div 7 = 8 \text{ (周)} \cdots \cdots 6 \text{ (天)}$$

三年级数学卷第6页

↓
三