

人教版一年级（上）数学期末测试卷（五）

时间：60 分钟 满分：100 分

题号	一	二	三	四	五	六	总分
得分							

一、看谁算得又对又快。（10 分）

$3 + 9 =$

$5 + 9 =$

$4 + 7 =$

$4 + 2 =$

$14 - 4 - 3 =$

$6 + 9 =$

$12 - 10 =$

$8 + 8 =$

$18 - 3 =$

$4 + 0 + 6 =$

二、填空（32 分）

1、15 里面有（ ）个十和（ ）个一，这个数在（ ）和（ ）的中间。

2、2 个十是（ ），10 里面有（ ）个一。

3、一个数的个位上是 0，十位是 2，这个数是（ ），它在（ ）的后面。

4、按规律填数：（ ） 8 （ ）（ ） 11 （ ）（ ）

		15				
--	--	----	--	--	--	--

5、



大约是（ ）时 （ ）：（ ） 大约是（ ）时 （ ）时

6、在○里填上“<”、“>”或“=”。

座位号

班级

姓名

题

答

要

不

内

线

订

装

$$9 - 3 \bigcirc 9 \quad 11 + 4 \bigcirc 15 \quad 14 + 4 \bigcirc 11 + 2$$

$$7 \bigcirc 6 + 3 \quad 6 - 6 \bigcirc 12 \quad 3 + 9 \bigcirc 5 + 7$$

7、在 \bigcirc 里填上 “+” 或 “-” 。

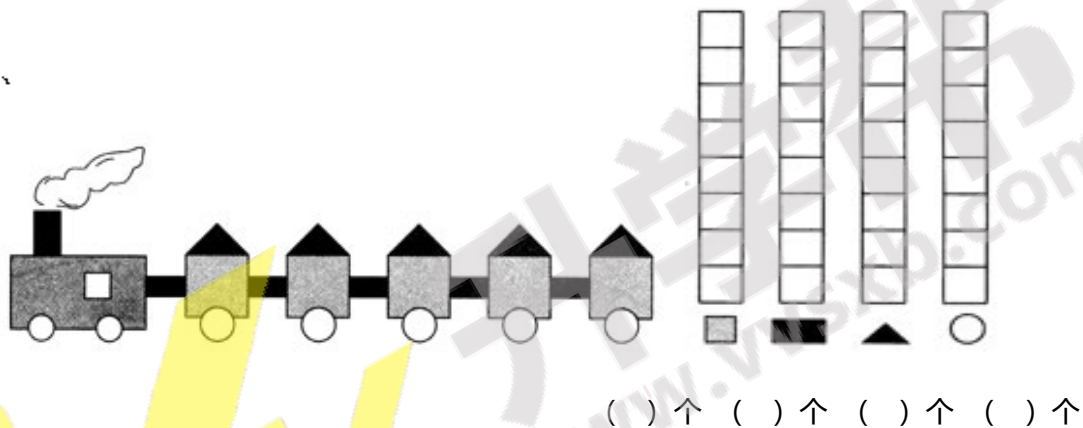
$$14 \bigcirc 4 = 10 \quad 16 \bigcirc 4 = 20 \quad 8 \bigcirc 7 < 9 \quad 12 > 6 \bigcirc 5$$

8、在 () 里填上合适的数。

$$4 + () = 11 \quad () - () = 5 \quad 7 + 4 = () + ()$$

三、数一数，涂一涂，圈一圈。(16分)

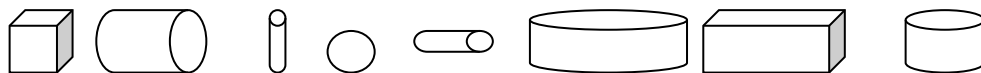
1、





2、☆☆☆☆★☆☆☆☆☆☆☆☆☆☆☆☆☆☆

- (1) 一共有 () 个五角星。
- (2) 将左起的第 8 个☆涂上红色。
- (3) ★在左起第 () 个。
- (4) 第 8 个☆的右边有 () 个☆

四、按要求做一做。(12分)

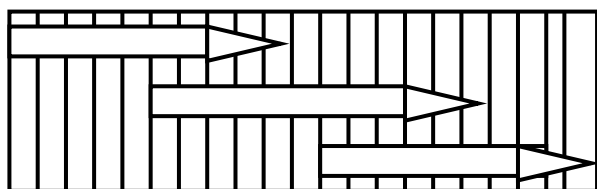


- (1) 一共有 () 个物体，其中  有 () 个。
- (2) 从左边数  排第 ()，从右数排 ()。

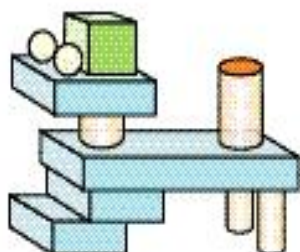
(3) 把从左数的第 6 个圈起来，把从右数的第 3 个物体涂成红色。

五、试试你的眼力如何！(8 分)

1、比一比，把最长的铅笔涂上红色。



2、数一数，填一填。



() 个
 () 个
 () 个
 () 个

六、解决问题 (22 分)

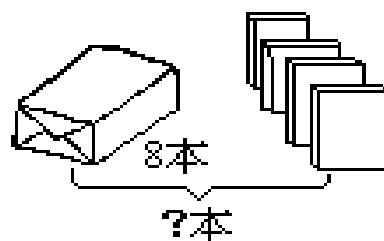
1、 ? 支



15 支

$$\square \circ \square = \square \text{ (本)}$$

2、



$$\square \circ \square = \square \text{ (本)}$$

3、



现在一共有几只？ $\square \circ \square = \square$ (只)


4、一本故事书, 我昨天看了 8 页, 今天看了 9 页, 两天看了多少页?

$$\square \bigcirc \square = \square \text{ (页)}$$

5、小明家有 19 只小羊, 卖了 9 只, 现在还有多少只?

$$\square \bigcirc \square = \square \text{ (只)}$$

6、



$$\square \bigcirc \square = \square \text{ (个)}$$



升学帮
www.vvvsxb.com

参考答案

一、12、14、11、6、7

15、2、16、15、10

二、填空

1、1,5,14,16

2、20,10

3、20,19

4、7,9,10,12,13

13,14,16,17,18,19

5、9,4:30,2,12

6、<、=、>

<、<、=

-、+、-、- (+)

8、7, 没有唯一答案, 没有唯一答案

三、1、略

2、(1) 18 (2) 略 (3) 5 (4) 10

四、(1) 8,5

(2) 1,8

(3) 略

五、1、略

2、4,1,2,4,

六、1, $10+5=15$ (本)

2, $8+4=12$ (本)

3, $9+3=12$ (只)

4, $8+9=17$ (页)

5, $19-9=10$ (只)

6, $13-3+10$ (个)



升学邦
www.vvvsxb.com