

# 2018—2019学年度(上)期末学业水平检测 小学数学二年级

## 一、我会算。(共 28 分)

### 1、口算。(每题 1 分, 共 16 分)

$54 \div 6 = 9$

$2 \times 7 = 14$

$4 \times 5 = 20$

$21 \div 7 = 3$

$8 \times 4 = 32$

$15 \div 3 = 5$

$3 \times 9 = 27$

$6 \times 8 = 48$

$6 \times 3 = 18$

$9 \div 1 = 9$

$28 - 4 = 24$

$64 \div 8 = 8$

$63 \div 7 = 9$

$3 \times 4 = 12$

$30 \div 5 = 6$

$36 + 6 = 42$

### 2、竖式计算。(每题 4 分, 共 12 分)

$$\begin{array}{r} 53 + 24 + 9 = 86 \\ 53 \\ +24 \\ +9 \\ \hline 77 \\ +9 \\ \hline 86 \end{array}$$

$$\begin{array}{r} 70 - 14 = 56 \\ 70 \\ -14 \\ \hline 56 \end{array}$$

$$\begin{array}{r} 27 + 36 - 25 = 38 \\ 27 \\ +36 \\ \hline 63 \\ -25 \\ \hline 38 \end{array}$$

## 二、我会填。(共 37 分)

1、 一共有多少根小棒?

写成加法算式是  $3 + 3 + 3 + 3 = 12$  (根), 表示 (4) 个 (3) 相加;



写成乘法算式是  $3 \times 4 = 12$  (根) 或  $4 \times 3 = 12$  (根)

2、把乘法口诀补充完整。



(六) 八四十八

(六) (六) 三十六

七 (八) 五十六

3、1 张  可以换 (10) 张 ;


(2) 张  和 (1) 张  合起来能换 1 张 .

4、1张  + 4张  = ( 7 ) 元

5、找规律，填一填。

(1) 8, 12, ( 16 ), 20, 24, ( 28 )。 (2) 72, ( 84 ), 56, ( 48 ), 40, 32。

6、填一填。



铅笔长 ( 6 ) 厘米；橡皮长 ( 2 ) 厘米。

7、填 cm 或 m。

教学楼高约 12 ( m )。

文具盒长约 20 ( cm )。

手掌宽约 6 ( cm )。

篮球架高约 3 ( m )。

8、在○里填“>”、“<”或“=”。

$9\text{cm} < 1\text{m}$

$100\text{厘米} < 100\text{米}$

$10\text{角} < 1\text{元}$


$2 \times 4 < 4 + 4 + 4 + 4$

$3 \times 5 < 6 + 5 + 4$


$6 \times 8 < 4 \times 8 + 8$

9、超市原有洗衣粉 50 袋，卖了 26 袋后，又运回 35 袋。估一估，现在超市的洗衣粉袋数比原来 ( )。

10、计算  $32 \div 8$ ，可以根据除数是几想 ( ) 的口诀，再根据被除数是多少想 ( ) 这句口诀求出商。

11、 左图表示○是△的 ( ) 倍，写成除法算式是 ( )  $\div$  ( ) = 2。

12、大象高约 ( ) 米，兔子高约 ( ) 厘米。





$$\square \bigcirc \square = \square \quad (\quad)$$

答：可以榨        杯西瓜汁。

#### 4. 文具店。



8元



3元



9元



(1) 书包的价格是文具盒的 6 倍，一个书包多少钱？

$$\square \bigcirc \square = \square \quad (\quad) \quad \text{答：一个书包 } \underline{\hspace{2cm}} \text{ 元钱。}$$

(2) 奇思买了一种文具，正好用去 40 元。他买的是什么？买了多少？

$$\square \div \square = \square \quad (\quad) \quad \text{答：奇思买的是 } \underline{\hspace{2cm}}, \text{ 买了 } \underline{\hspace{2cm}}。$$

#### 5. 两只猫一共钓了多少条鱼？



我钓了 35 条鱼。



我钓的比你少 6 条。

答：两只猫一共钓了        条鱼。

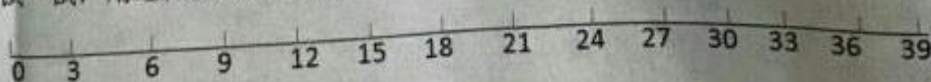
我会思考。(附加题：每题 10 分，共 20 分。)

1. 把不会的转化为会的来做，是一个好方法。看一看，填一填。



$$8 \times 9 = 8 \times \square + 8 \times \square = \square$$

试一试，用这样的方法，计算  $3 \times 12$ 。先画一画，再算一算。




$$3 \times 12 = 3 \times \square + 3 \times \square = \square$$

2. 工人师傅把一根钢筋锯成 4 段用了 6 分钟。12 分钟可以把一根同样的钢筋锯成多少段？

### 三、我会画，我会算。(5分)

1、圈一圈，在图上用两种方法表示  $4 \times 6$ 。



2、画○，○的个数是◎的4倍。



○有( )个。  $\square \bigcirc \square = \square$  ( )

### 四、我会解决问题。(共30分)

1、淘气买了一枝钢笔，付给售货员 50 元，应找回多少元？



$\square \bigcirc \square = \square$  ( )

答：应找回\_\_\_\_元。

2、大楼的高度是小房子的几倍？



$\square \bigcirc \square = \square$

答：大楼的高度是小房子的\_\_\_\_倍。

3、  $\rightarrow$   $\rightarrow$

有 6 个西瓜，可以榨多少杯西瓜汁？