

成都市青羊区小学 2018-2019 学年度上期

一年级数学期末检测题

(完卷时间 60 分钟)

题号	一	二	三	四	五	六	总分	选作题
得分								

得分	评卷人

一、口算。(15 分, 每小题 0.5 分)

(建议 5 分钟内完成)

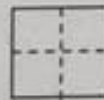
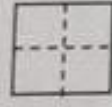
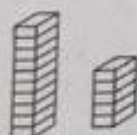
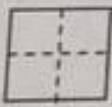
$7+2=$	$8+4=$	$18-3=$	$4+5=$	$12+5=$
$5+8=$	$9-4=$	$11+2=$	$9-2=$	$4+9=$
$9-9=$	$7+5=$	$10-4=$	$7+8=$	$4-0=$
$17-4=$	$10-8=$	$5+6=$	$12-1=$	$10+6=$
$8+6=$	$9+4=$	$7-5=$	$16-4=$	$3+4=$
$2+9=$	$6+7=$	$8+2=$	$3+9=$	$5+7=$

得分	评卷人

二、我会填。

(30 分, 3 小题 4 分, 6 小题 2 分, 其余各题每空 1 分)

1. 看图写数。



2. 想一想, 填一填。

	13	14		16	
--	----	----	--	----	--


	18	16		12	
--	----	----	--	----	--

3. 比一比, 画一画。(4 分, 每小题 2 分)

画 \square , 使 \square 比 \triangle 多 2 个。



画 \bigcirc , 使 \bigcirc 比 \bigcirc 少 5 个。



4. 1个十和7个一组成(), 2个十是()。



5. 14的个位上是(), 十位上是()。



6. 比5大比10小的数有()。

7. (6分)



(1) 一共有()只小动物。

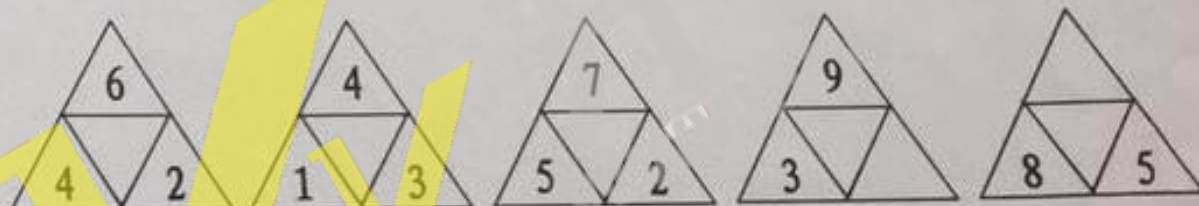
(2) 从左数  排第4,  排第()。

(3)  的前面有()只小动物,  的后面有()只小动物。

(4) 圈出最右边的3只小动物。

(5) 从左边起, 涂黑第3只小动物。

8. 找规律、填一填。



9. 如果 $\square < 8$, \square 里最大可以填()。

10. 如果 $9 < 5 + \square$, \square 里最小可以填()。

得分	评卷人

三、我会看。(14分)

1. 在最长的旁边画 ☒ , 在最短的旁边画 ☐。(3分)



2. 在最重的旁边画 ☒，在最轻的旁边画 ☐。(3分)



3. 圈出不是同一类的那一个。(4分)



4. 连一连。(4分)



8时半

4时

7时

1时

得分	评卷人

四. 我会算。(14分)

1. 用“凑十法”计算。(6分)

$$8 + 5 = \square$$

\square

\square

$$8 + 5 = \square$$

\square

\square

2. 在 \bigcirc 里填上“>”、“<”或“=”。(4分)

$12 \bigcirc 17$

$4 + 7 \bigcirc 7 + 4$

$9 + 3 \bigcirc 9 - 3$

$10 - 2 \bigcirc 8 + 1$

3. 填一填。(4分)

$\square + 2 = 7$

$9 - \square = 4$

$10 - 9 = 6 - \square$

$5 + \square = 8 - 2$

得分	评卷人

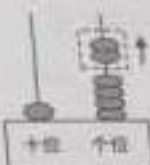
五、我会写。(15分,每小题5分)

1.



$$\square \bigcirc \square \bigcirc \square = \square$$

2.



$$\square - \square = \square$$

3.

有7只小鸟。

飞来了1只。

又飞走了5只。



$$\square \bigcirc \square \bigcirc \square = \square$$

得分	评卷人

六、我会解。(12分,每题4分)

1. 笑笑练习写字,上午写了6排,下午和上午写的同样多,她这一天一共写了多少排?

$$\square \bigcirc \square = \square \text{ (排)}$$

答:她这一天一共写了_____排。

2. 车上原来有8人,到站后有5人下车,又有9人上车,现在车上有多少人?

$$\square \bigcirc \square \bigcirc \square = \square \text{ (人)}$$

答:现在车上有_____人。

3. 小明从下面的三束气球中买了两束。



(1) 小明最多买了()个气球。

$$\square \bigcirc \square = \square \text{ (个)}$$

(2) 小明最少买了()个气球。

$$\square \bigcirc \square = \square \text{ (个)}$$

【选做题】20分。1. 淘气有3颗糖,笑笑有7颗,笑笑给淘气()颗两人就同样多了。

2. 把6, 7, 8, 9分别填入口中。

$$\square + \square - \square = \square$$

$$\square + \square - \square = \square$$