

2018-2019学年度(上)期末学业水平检测
小学三年级数学

(时间:80分钟 总分:100分)

基础部分 (100分)

一、精心挑选,填对序号。(5分)

1、一年中有()个大月。

A. 4

B. 7

C. 5

2、小青用2米长的铁丝围成了一个长方形,小红用2米长的铁丝围成了一个正方形,比较这两个图形的周长,结果是()。

A. 长方形的周长长

B. 正方形的周长长

C. 一样长

3、32角写成小数是()。

A. 3.2元

B. 30.2元

C. 0.32元

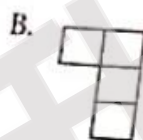
4、下面算式()的得数最小。

A. $423 + 6 + 0$

B. $423 \times 0 + 6$

C. $423 \times 6 \times 0$

5、下面由4个边长为1厘米的正方形摆成的图形中,()的周长最短。



二、静心思考,正确填写。(25分)

1、计算 $60 - 24 \div 6$ 时,应先算()法;计算 $(35 - 27) \times 18$ 时,应先算()法。

2、口算 300×4 时,想()个()乘4得()个(),就是()。

3、25.25读作();三十点五零写作()。

4、一位数乘三位数,积最多是()位数,最少是()位数。

5、2018年是()年,全年有()天,第一季度有()天。

6、用24小时计时法表示上午10时是()时,下午5时是()时。

7、某游泳馆的营业时间是 13:00~21:30, 这个游泳馆全天的营业时间是 () 时 () 分。

8、亮亮有 3 件不同的上衣和 4 条不同的裤子, 一件上衣配一条裤子, 可以搭配出 () 种不同的穿法。

9、在 \bigcirc 里填上 “>”、“<” 或 “=”。

$25 \times 4 \bigcirc 24 \times 5$

$249 \times 2 \bigcirc 500$

$2 \text{ 天 } \bigcirc 48 \text{ 小时}$

$6.06 \text{ 元 } \bigcirc 6 \text{ 元 } 6 \text{ 角}$

$6 \text{ 分米 } \bigcirc 0.5 \text{ 米}$

$360 \div 3 \bigcirc 360 \div 4$

10、一根丝带长 100 米, 第一次用去 30 米, 第二次用去 10 米, 现在丝带的长度比原来短了 () 米。

11、一张长方形纸长 20 厘米, 宽 15 厘米, 从它上面剪下一个最大的正方形, 这个正方形的周长是 () 厘米。

12、小王看一本 200 页的故事书, 他每天看 30 页, 他第 5 天应从 () 页看起。
三、细心辨别, 判断对错 (对的判 “√”, 错的判 “×”)。(5 分)

1、 $300 - 199 + 1 = 300 - 200 = 100$ ()

2、 500×4 的积的末尾只有 2 个 0。..... ()

3、站在同一个位置观察一个正方体, 最多能看到它的 3 个面。..... ()

4、周长相等的两个长方形, 它们的长和宽一定相等。..... ()

5、年份数是 4 的倍数的年份一定是闰年。..... ()

四、耐心审题, 认真计算。(34 分)

1、直接写出得数。(每题 1 分, 共 8 分)

$7 \times 500 =$

$7.4 - 3.6 =$

$86 \div 2 =$

$400 \div 5 =$

$25 \times 4 =$

$3200 \div 4 =$

$0 \times 8 =$

$5.3 + 3 =$

2、用竖式计算。(每题 2 分, 共 8 分)

$40 - 15.6 =$

$307 \times 6 =$

$$500 - 253 + 348 =$$

$$240 \times 3 =$$

3、脱式计算。（每题3分，共18分）

$$12 \times (132 - 125)$$

$$10.5 - 6.7 + 3.3$$

$$603 - 145 - 55$$


$$96 + 204 \times 3$$

$$124 - 84 \div 4$$

$$5 \times (56 + 65)$$

五、用心观察，正确操作。（共6分）

1、右边这几幅图分别是谁看到的？用线连一连。



2、圈一圈，算一算。把你圈图时的想法用算式表示出来，写在旁边。

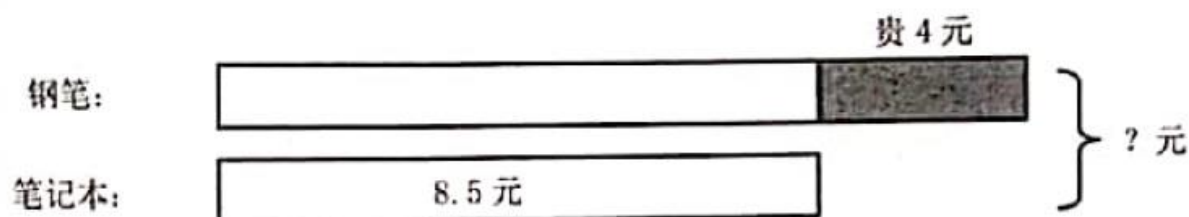
$$14 \times 6 =$$



你的想法：

六、解决问题。(25分)

1、买一枝钢笔和一本笔记本一共多少钱？(5分)



2、学校要在全校每个班选出 8 名同学参加合唱队，每个年级有 4 个班，一到六年级一共要选出多少名同学？(5分)

3、亮亮平均每天比乐乐少看多少页？(5分)



亮亮 6 天看书 300 页



乐乐一天看书 70 页

- 4、一个长方形和一个正方形的周长相等，长方形的长是 12 厘米，宽是 8 厘米，这个正方形的边长是多少？（5 分）

- 5、欢欢家的电表读数如下。（单位：千瓦时）

一月底	二月底	三月底	四月底	五月底	六月底
500	570	650	735	810	938

- (1) 欢欢家二月份的用电量是多少？（2 分）
- (2) 欢欢家五月和六月这两个月一共用电多少千瓦时？（3 分）

附加题：尽心面对，挑战自我。（20 分）

一、认真审题，仔细填空。（每题 2 分，共 10 分）

- 1、 $1\square3 \times 7$ 的积是 4 位数， \square 里最小填（ ）。
- 2、诚诚在读一个小数时，把小数点读丢了，读成了 200。原来的小数只读一个零，原来的小数是（ ）。
- 3、正方形的边长扩大到原来的 3 倍，周长应该扩大到原来的（ ）倍。
- 4、用 18 根同样长的小棒拼一个长方形，可以拼出（ ）种不同的长方形。
- 5、2016 年 3 月 1 日是星期二，那么 2016 年 4 月 15 日是星期（ ）。

二、读取信息，解决问题。（每题 5 分，共 10 分）

- 1、小马虎在计算 3.6 加一个数时，把 3.6 误看成了 36，算得的结果是 50，这道题的正确结果是多少？（5 分）

- 2、两个完全相同的长方形可以拼成一个大正方形，这个大正方形的周长是 32 厘米，如果把这两个完全相同的长方形拼成一个大长方形，这个大长方形的周长是多少？（5 分）
（温馨提示：可以画图观察噢！）