


人教版一年级（上）数学期末测试卷（四）

时间：60 分钟 满分：100 分

一、我会填。（共 38 分）

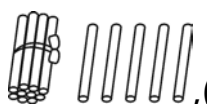
1. 数一数。



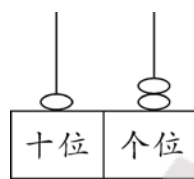
, ()



, ()



, ()



, ()

2. 照样子，填一填。



3. 2 个十是(); 16 里面有()个十和()个一;

和 13 相邻的数是()和()。

4. 在○里填上 “>” “<” 或 “=”。

$$2 + 9 \bigcirc 12$$

$$4 + 8 \bigcirc 12$$

$$19 - 7 \bigcirc 8$$

$$6 + 9 \bigcirc 15$$

$$4 + 8 \bigcirc 15 - 3$$

$$10 - 7 \bigcirc 2 + 7$$

5. 在○里填上 “+” 或 “-”。

$$12 \bigcirc 2 = 10$$

$$3 \bigcirc 8 = 6 + 5$$

$$17 - 10 = 1 \bigcirc 6$$

$$10 - 5 \bigcirc 4 = 3 - 2$$

$$3 + 4 + 5 = 8 \bigcirc 4$$

$$19 - 3 - 2 = 15 \bigcirc 1$$


6. ◇ ☆ □ ▲ ⊙ ◆ ★ ㊟

(1)上图共有()个图案,从右数起,□排第(),⊙排第()。

(2)从左数起,▲排第(),◆排第(),☆后面有()个图案。


7. () + 5 = 19 () - 7 = 10 15 - () = 10

8. 数一数。



长方体有()个, 正方体有()个, 圆柱有()个。

二、看 kàn 图 tú 填 tián 空 kòng. (共 7 分)



1. 上图中一共有()种物品。

2. 的()面是 , 的()面是 .

3. 的()边是 , ()边是 .

4. , 和 在这幅图的()边, , 和 在

这幅图的()边。

三、我 wǒ 会 huì 画 huà。(共 6 分)

1. 比一比, 哪种珠子多? 画 "√"。



2.



把左边的 3 个贝壳圈起来。从右边数的第 3 个贝壳是红色的, 请你涂一涂。

四、算 suàn — yì 算 suàn。(共 16 分)

$$11 + 5 = \quad 19 - 8 = \quad 15 - 10 = \quad 10 + 5 =$$

$$12 - 10 = \quad 7 + 6 = \quad 6 + 9 = \quad 2 + 9 =$$

$$19 - 9 + 4 = \quad 13 - 2 + 5 = \quad 1 + 6 + 8 = \quad 3 + 6 + 7 =$$

$$5 + 5 + 6 = \quad 2 + 8 + 7 = \quad 0 + 6 + 7 = \quad 4 + 9 - 10 =$$

五、连 lián — yì 连 lián。(共 4 分)



3:00



4:00



8:00



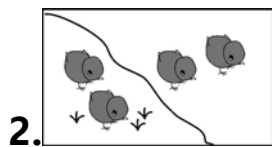
6:00

六、看 kàn 图 tú 列 liè 式 shì 计 jì 算 suàn。(共 12 分)

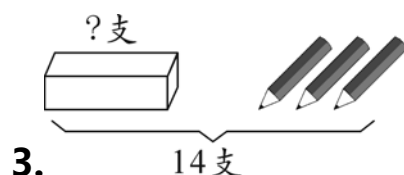


1. ? 个

$$\square \bigcirc \square = \square (\text{个})$$



$$\square \bigcirc \square = \square (\text{只})$$




$$\square \bigcirc \square = \square (\text{支})$$



$$\square \bigcirc \square \bigcirc \square = \square (\text{只})$$

七、生 shēng 活 huó 中 zhōng 的 de 问 wèn 题 tí。(共 17 分)



1. (4 分)

一共要做多少道题?

$$\square \bigcirc \square = \square (\text{道})$$

2. (4 分)原来地上有 17 只 , 后来爬走了 6 只。还剩下几只?

$$\square \bigcirc \square = \square (\text{只})$$

3. (5 分)一共有多少片树叶?



$$\square \bigcirc \square = \square \text{ (片) 或 } \square \bigcirc \square = \square \text{ (片)}$$

我前面有9只鸭子，
后面还有6只。

一共有多少
只鸭子？



4. (4分)

$$\square \bigcirc \square \bigcirc \square = \square \text{ (只)}$$

智力冲浪 (10分)



我刚从一口深6米
的井里爬上来。

蜗牛从最底下开始往上爬，白天爬上3米，夜里滑下2米，这样它()天爬到井口。

参考答案

一、1.6 9 15 12

2.5 3 3 9 2(最后一个答案不唯一)

3.20 1 6 14 12

4.< = > = = <

5.- + + - + -

6.(1)8 6 4 (2)4 6 6

7.14 17 5 8.2 1 3

二、1.9 2.下 上 3.左 右 4.左 右

三、1.第一幅图√ 2.略

四、16 11 5 15 2 13 15 11 14 16 15 16 16

17 13 3

五、略

六、1. $5 + 8 = 13$ 2. $4 - 2 = 2$ (答案不唯一) 3. $14 - 3 = 11$ 4. $4 + 4 + 2 = 10$

七、1. $6 + 9 = 15$ 2. $17 - 6 = 11$ 3. $6 - 8 = 14$ 7 + 7 = 14 4. $9 + 1 + 6 = 16$

智力冲浪 4