


## 三年级数学上册期末册试卷

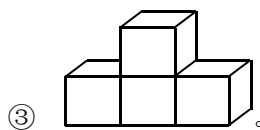
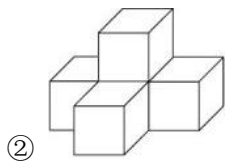
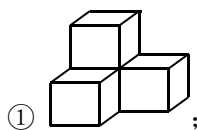
### 一、填空题。

1. 每四年中有 ( ) 个闰年 ( ) 个平年。平年一年有 ( ) 天, 闰年一年有 ( ) 天。
2. 一节课要 40 分钟, 某校 8: 30 上第一节课, 下课时是 ( ) 时 ( ) 分。
3. 小亮 20: 30 睡觉, 第二天 6: 30 起床, 他一共睡了 ( ) 个小时。
4. 在下面的 ( ) 里填上合适的计量单位。
  - (1) 小刚的体重是 30 ( ), 身高是 126 ( )。
  - (2) 一袋食盐大约重 500 ( ); 一包水泥约重 50 ( )。
  - (3) 一头大象约重 3 ( ); 一个鸡蛋约重 50 ( )。
5. 在下面的○里填上“>”、“<”或“=”。  
 $23 \times 2 \bigcirc 32 \times 2$      $45 \times 8 \bigcirc 45 + 8$      $102 \times 7 \bigcirc 700$      $48 \div 4 \bigcirc 84 \div 4$   
 $300 \times 0 \bigcirc 0 + 300$      $24 \times 3 \bigcirc 24 \div 3$      $1000\text{kg} \bigcirc 1\text{t}$      $54 \div 2 \bigcirc 54 \div 3$
6. 要使“ $\square 23 \div 9$ ”的商是三位数, 被除数中的□里只能填 ( )。
7. 在  $A \div 9 = 30 \cdots B$  中, B 最大是 ( ), 这时 A 是 ( )。
8. 小红有 2 件不同颜色的上衣, 有 3 条不同颜色的裤子, 共有 ( ) 种搭配方法。
9. 用一个长 18 分米, 宽 14 分米的铁丝框, 可以围成一个边长是 ( ) 分米的最大的正方形。
10. 验算有余数的除法, 用 ( ) 和 ( ) 相乘, 再加上 ( ), 若结果等于 ( ), 说明除法计算正确了。

### 二、选择题。

1. 如果△是○的 6 倍, 下列算式正确的是 ( )  
①  $\bigcirc \times \triangle = 6$ ;    ②  $\triangle = \bigcirc \times 6$ ;    ③  $\bigcirc \div \triangle = 6$
2. 下列数量中, 表示最重的一个是 ( )  
① 5kg;    ② 5000g;    ③ 5t
3. 要使  $\square 28 \div 7$  的商中间有一个 0, □里不应该填 ( ) 的数。  
① 大于 7; ② 小于 7; ③ 等于 7。
4. 亮亮、明明和强强分别参加了学校体育、美术和舞蹈三个兴趣小组中的一个小组。亮亮不喜欢跳舞, 强强得了跳远第一名, 明明参加了 ( )。  
① 体育组; ② 美术组; ③ 舞蹈组。

5. 下面立体图形中，从正面看形状是  的有 ( )。



### 三、计算题。

1. 直接写出得数。

$3000 \div 5 =$

$230 \times 0 =$

$42 \times 5 =$

$3 \times 340 =$

$172 + 4 \times 73 =$

$5600 \div 8 =$

$804 \div 4 =$

$90 \times 6 =$

$930 \div 3 =$

$160 \div 4 \times 5 =$

2. 竖式计算 (5)、(6)题要验算)。

$(1) 483 \times 8 =$

$(2) 870 \times 6 =$

$(3) 209 \times 4 =$

$(4) 516 \div 6 =$

$(5) 618 \div 3 =$

$(6) 843 \div 7 =$

3. 计算下面各题。

$462 + 198 \div 9$

$370 - 540 \div 4$

$213 \times 7 + 4$

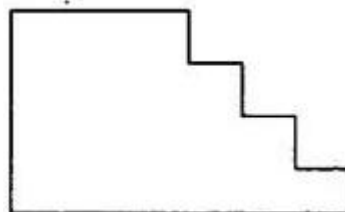
$302 \times 5 \times 6$

$756 \div 7 \div 6$


$684 \div (605 - 599)$

### 四、操作题。

1. 用彩笔描出右边图形的边线。



2. 先量出有关数据，再计算周长。



## 五、解决问题。

1. 学校操场是一个长 100 米，宽 75 米的长方形，王老师每天都沿着这个操场边缘跑 2 圈。

王老师每天跑多少米？

2. 学校图书室最近新买了一批图书，其中科技类图书有 108 本，童话类图书是科技类图书的 3 倍。图书室买来童话类图书多少本？两种图书共有多少本？

3. 超市运进 8 箱鲜橙汁饮料，每箱 24 瓶，摆放到 4 个货架上，平均每个货架摆了多少瓶？

4. 北京到天津有 420 千米。某日一列火车上午 10:30 从北京站开车，下午 3:30 到达天津站，路上用了多少时间？火车平均每小时行多少千米？

5. 光明小学各年级的学生人数如下表：

年级	一	二	三	四	五	六
人数	93	93	98	97	105	90

(1) 分乘 9 辆车去少年宫参观，平均每辆车坐多少人？

(2) 少年宫规定每批参观人数不超过 200 人，怎么安排合适？

参考答案

一、1. 一 三 365 366 ; 2. 9时 10分; 3. 10; 4. (1)千克 厘米; (2)克 千克 ;

(3)吨 克 ; 5.  $< > > < < > = >$ ; 6. 9; 7. 8 278; 8. 6;

9. 16; 10. 商 除数 余数 被除数;

二、1. ②; 2. ③; 3. ②; 4. ③; 5. ①;

三、1. 600 0 210 1020 464 700 201 540 310 200;

2. (1)3864; (2)5220; (3)836; (4)86; (5)206; (6) $843 \div 7 = 120 \cdots 3$ ;

3. 484 235 1495 9060 18 114;

四、略;

五、1. 700 米; 2. 324 本; 432 本; 3. 48 瓶; 4. 5 个小时; 84 千米; 5. (1)96 人; (2)二年级和五年级一批, 其余任意两个年级学生为一批既可。



升学帮  
www.vvssxb.com