

一年级数学卷

2019.01

| 题号 | 一 | 二 | 三 | 四 | 五 | 六 | 总分 |
|----|----|----|----|----|----|----|-----|
| 分值 | 15 | 15 | 23 | 12 | 15 | 20 | 100 |
| 得分 | | | | | | | |

说明:1. 监测日期:2019年1月11日,时间:60分钟。

2. 监考老师注意念题,每题念两遍。

3. 满分100分。

65 知识与技能

一、口算(15分)

得分

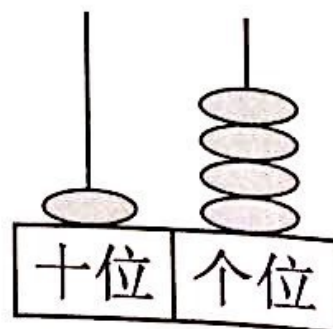

阅卷人

二、填空(15分)

得分

阅卷人

1. 看图写数。



2.在下面 ○ 里填上“>”“<”或“=”。

$8 \bigcirc 7$

$6-4 \bigcirc 7-2$

$17-2 \bigcirc 15$

$14 \bigcirc 16$

$8+5 \bigcirc 3+8$

$12 \bigcirc 7+6$


3.填一填。

(1)比1个十和3个一大的数可能是()。

(2)计数器上,十位的1颗珠子可以换成个位的()颗珠子。

4.我们学校的教学楼有()层,我们班的教室在第()层。

5.下面物体中,是长方体的有()个,能滚动的有()个。



6.同学们排队去买票。笑笑说:“我的前面有4个同学,后面有7个同学。”这一排有()个同学。(可以画一画)

三、计算(23分)

| | | | |
|----|--|-----|--|
| 得分 | | 阅卷人 | |
|----|--|-----|--|

1.填一填,算一算。

$$\begin{array}{c} 9+8=\square \\ \swarrow \quad \searrow \\ \square \quad \square \end{array}$$

$$\begin{array}{c} 17-2=\square \\ \swarrow \quad \searrow \\ \square \quad \square \end{array}$$

$$\begin{array}{c} 7+4=\square \\ \swarrow \quad \searrow \\ \square \quad \square \end{array}$$

2. 算一算。

$5+8+2=$

$9+6+5=$

$15-4+2=$

$9-5-3=$

$12-2-6=$

$3+9+7=$

3. 写出得数是12的算式。

12

$\square \bigcirc \square = \square$

$\square \bigcirc \square = \square$

$\square \bigcirc \square = \square$

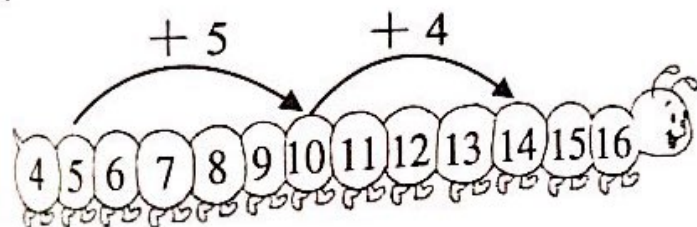
$\square \bigcirc \square \bigcirc \square = \square$

四、数学应用(12分)

得分



阅卷人

1.



$\square \bigcirc \square \bigcirc \square = \square$

2. 一共有9只蚂蚁。



$\square \bigcirc \square = \square$

龙泉驿区 2018—2019 学年度上期末学业质量监测

一年级数学口算题单

2019.01

时间:5 分钟

操作:念题目要求,5 分钟老师收题单。

分值:15 分,正确的每题 0.5 分。

$4+9=$

$9-8=$

$10-0=$

$5-5=$

$7-4=$

$8+7=$

$16-4=$

$5+7=$

$2+18=$

$13+6=$

$11-8=$

$5+3=$

$8-6=$

$10-7=$

$15+4=$

$7+8=$

$16-3=$

$6+6=$

$19-2=$

$7+0=$

$14+2=$

$5+13=$

$8+6=$

$10-1=$

$2+4=$

$17+1=$

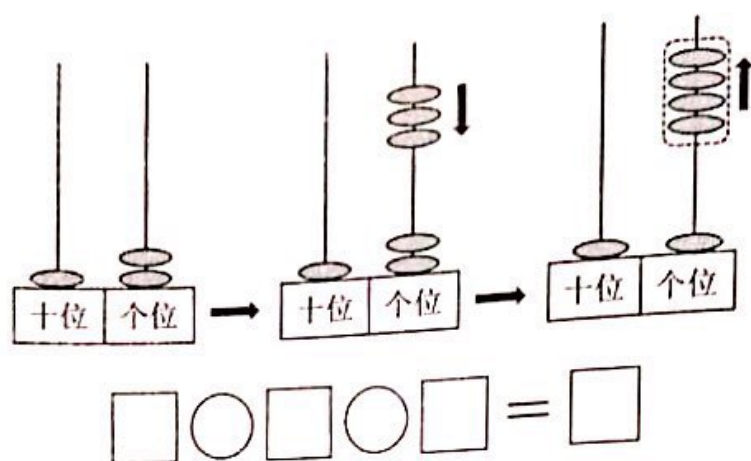
$15-4=$

$2+16=$

$18-7=$

$12-2=$

3.



15 思考与操作

五、动手操作(15分)

| | | | |
|----|--|-----|--|
| 得分 | | 阅卷人 | |
|----|--|-----|--|



1.画图。

(1)画图表示“6-5”的意思。

(2)画一条比下面的线更短的线。



2.把相同的时刻连起来。



12时

12时半

3时半

6时半