

高新区三年级数学

(考试时间：90 分钟，满分：100 分)

题 号	一	二	三	四	五	六	总 分
得 分							

得分	评卷人

一、认真读题，你一定能正确填空！（每题 2 分，共 22 分）

1. 1900 年是（ ）年，这年的第一季度有（ ）天。
2. 2 年=（ ）月 1200 平方厘米=（ ）平方分米
72 小时=（ ）日 8000 平方分米=（ ）平方米
3. 80 的 3 倍是（ ），5.4 与 9.08 的和是（ ），差是（ ）。
4. 5 个小朋友见面，每两个人都握一次手，一共要握（ ）次手。
5. 早上起来，背对太阳，前面是（ ），后面是（ ），左面是（ ），右面是（ ）。
6. 把下面的数按从小到大的顺序排列起来。
6.5 0.9 6.2 6.0 6.7 0.6 7.0
7. 计算 120×30 时，可以先把（ ）和（ ）相乘，得（ ），再在乘的得数后添写（ ）个 0。
8. 在括号里填写合适的单位。
课桌面的面积约是 60（ ） 一枚邮票的面积约是（ ）
黑板长 3（ ） 铅笔长 16（ ）
9. 一个正方形周长是 16 厘米，面积是（ ）平方厘米。
10. 一个长方形长是 16 厘米，长是宽的 2 倍，周长是（ ）厘米，面积是（ ）平方厘米。
11. 一个三位数除以一位数，上可能是（ ）位数，也可能是（ ）位数。

得分	评卷人

二、保持认真、细心、平和的心态是你计算成功的保证，相信你一定行！（共 27 分）

1. 直接写出得数。（6 分）

$500\div5=$

$80\times50=$

$270\div9=$

$2.3+3.4=$

$5.3-3.5=$

$12\times200=$

$200\div4=$

$9-3.5=$

$0\div23=$

$15\times20=$

$47\times3\approx$

$346\div7\approx$

2. 竖式计算，带*要验算。（12 分）

$*\textcircled{1} 618\div3=$

$*\textcircled{2} 148\div5=$

$\textcircled{3} 76\times67=$

$\textcircled{4} 10-3.8=$

3. 脱式计算。（9 分）

$\textcircled{1} 62\times34-477\div9$

$\textcircled{2} 456\div3+324324\div4$

$\textcircled{3} 632+(131\times4-276)$

得分	评卷人

三、仔细分析，相信你一定能正确判断！（共 5 分）

1. 两位数乘两位数积一定是四位数。 （ ）
2. 8 月份有 31 天，是 4 个星期零 3 天。 （ ）
3. 小红家在学校的北面，那么学校在小红家的南面。 （ ）
4. 边长是 4 厘米的正方形，周长和面积相等。 （ ）
5. 小数都比整数小。 （ ）

	评卷人

四、辨一辨，不粗心，选出正确答案。（共 10 分）

1. 从 240 里面连续减去（ ）个 6 后，结果是 0。
A. 40 B. 41 C. 240
2. 今天是星期一，再过 30 天是（ ）。
A. 星期一 B. 星期二 C. 星期三
3. 57×48 的积（ ） 48×57 的积。

A. 大于 B. 小于 C. 等于

4. 125×8 的积的末尾有 () 个 0。

A. 1 B. 2 C. 3

5. 用 24 时计时法表示下午 5 时是 ()。


A. 5 时 B. 17 时 C. 17 小时

得分	评卷人

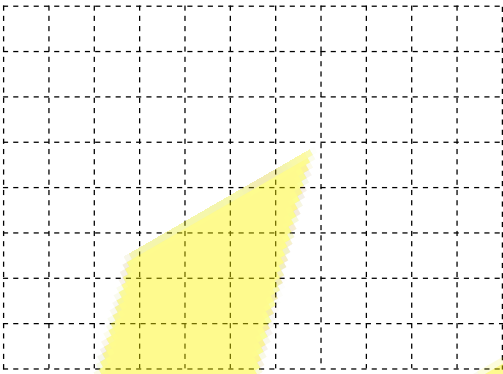
五、动手操作。(共 16 分)

1. 下面的方格边长为 1 厘米。(6 分)

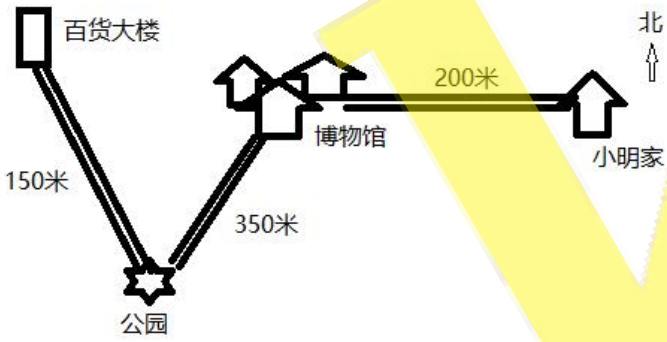
①在方格上画一个周长是 18 厘米的长方形，长是宽的 2 倍。(4 分)



②设计一个 5 平方厘米的图案，写出名称 (2 分)



2. 看图回答问题。(4 分)



① 小明从家出发向 () 走 200 米到博物馆，再向 () 走 350 米到达公园，最后向 () 走 () 米到达百货大楼。(2 分)

② 小明返回的路线是： _____ (2 分)

3. 下面是光明小学校对三年级学生上床睡觉时间调查的统计表。(6 分)

人数 学生	时间	8:00—9:00	9:00—10:00	10:00—11:00	11:00 以后

男生	3	13	1	0
女生	12	4	0	0

① 男生在 () 上床睡觉的人数最多，女生在 () 上床睡觉的人数最多。(2 分)

② 男生和女生在 () 睡觉的人数相同，是 () 人。(2 分)

③ 你想对他们提一个建议：(2 分)

得分	评卷人

六、走进生活，用数学知识解答生活问题。相信自己，我能行！(共 20 分)

1. 5 箱蜜蜂一年可以酿蜜 375 千克蜂蜜。照这样计算，24 箱蜜蜂一年可以酿蜜多少千克？(4 分)

2. 一台收割机宽 8 米，每小时可以行进 1200 米，一天 (8 小时) 可以收割小麦多少平方米？(4 分)

3. 一个客厅泳池长 8 米，宽 5 米，用边长 4 分米的正方形瓷砖铺地，至少需要多少块这样的瓷砖？(4 分)

4. 一个养殖场有 28 个牛棚，每个牛棚养了 6 头牛，平均每头牛每天要喂 40 千克饲料，养殖场一天需要多少千克饲料？(4 分)

5. 288 名运动员参加比赛，分成 4 个组，每组 6 个队，平均每个队有多少个队员？(4 分)