

2018—2019 学年度上期期末综合素质测评

二年级数学

说明：本试卷分为A卷和B卷。其中A卷满分100分，为期末成绩；B卷20分，为参考成绩。请先完成A卷后再做B卷。完卷时间：70分钟。

题号	A卷						B卷
得分	一	二	三	四	五	六	总分

A卷(100分)

一、填空。(第2题4分，第6题6分，其余每空1分，共25分)

1. (1)



()元()角

(2) ()张



和 ()张



合起来能换1张

2. 填一填。


(1)



$$\square + \square + \square = \square$$

$$\square \times \square = \square$$

(2) 圈一圈，在图上用两种方法表示出 3×7



3. 在“O”里填上“>”“<”或“=”。

$$2 \times 7 \bigcirc 7 \times 2$$

$$6 + 7 \bigcirc 6 \times 7$$

$$16 \div 4 \bigcirc 4 \times 2$$

$$6 \text{ 米 } \bigcirc 60 \text{ 厘米}$$

$$1 \text{ 米 } \bigcirc 100 \text{ 厘米}$$

$$2 \text{ 米 } 25 \text{ 厘米 } \bigcirc 3 \text{ 米 } 10 \text{ 厘米}$$

4. ()里最大能填几?

$$() \times 8 < 50$$


$$9 \times () < 40$$

$$() \times 7 < 60$$

5. 在()里填上适当的单位或数。

(1) 黄瓜长约20 ()

(2) 回形针长约 () 厘米



6. 看图写算式。

$$\square \times \square = \square$$

$$\square \times \square = \square$$

$$\square \times \square = \square$$

36							
9	9	9	9				
6	6	6	6	6	6		
4	4	4	4	4	4	4	4

$$\square \div \square = \square$$


$$\square \div \square = \square$$

$$\square \div \square = \square$$

二、判断(对的画“√”，错的画“×”)(5分)

1. 合唱队原有28人，毕业了16人，又新加入8人，现在有20人。 ()

2. 铅笔长6厘米。



3. 70角=7元。

4. 得数是12的乘法口诀只有三四十二。

5. 求8是2的几倍用算式“ 8×2 ”计算。

三、选择正确答案的字母填在括号里。(5分)

1. 车上原有54人，中途下车27人，又上车18人，现在车上的人数比原来 ()。

A. 多 B. 一样多 C. 少

2. 淘气有2元，买一把尺子用了1元5角，淘气还剩 ()。

A. 1元 B. 5角 C. 1元5角

3. 火柴棍扎在下面三种硬纸板的中心制作陀螺，转得最稳的形状是 ()



4. 3个5再加上1个5得多少? 用算式 ()。

$$A. 3 \times 5$$

$$B. 4 \times 5$$

$$C. 5 \times 5$$

5. 一张课桌的高度大约是 ()。

A. 70米

B. 70厘米

C. 7米

四、算一算。(21分)

1. 直接写出得数。(每题1分,共12分)

$$\begin{array}{llll} 6 \times 9 = & 8 \times 3 = & 32 \div 4 = & 72 \div 8 = \\ 26 + 40 = & 17 + 64 = & 99 - 40 = & 43 - 25 = \\ 8 \times 8 = & 54 \div 6 = & 7 + 7 + 7 = & 5 \times 9 + 5 = \end{array}$$

2. 列竖式计算。(每题3分,共9分)

$$49 + 22 + 18 = \quad 78 - 27 - 35 = \quad 78 + 12 - 46 =$$

五、画一画。(每题4分,共12分)

1. 画一条比5厘米长3厘米的线段。 2. 12个小朋友,4人一组,可以分成几组?

3. \triangle 的个数是 \bigcirc 的2倍,请你画出 \triangle 。

$\bigcirc \bigcirc \bigcirc \bigcirc \bigcirc$

六、问题解决。(每小题4分,共32分)

1. 二(1)班开展“争做环保小卫士”活动,下面是三个小队上周末收集废电池的情况。

小队	第一小队	第二小队	第三小队	合计
数量/节	35	37	?	97

(1) 第三小队收集了多少节废电池?

(2) 第四小队收集废电池的节数比第一小队和第二小队的总和少26节,第四小队收集多少节?

2. 有24棵树苗,每行栽8棵。

(1) 一共可以栽几行?

(2) 平均分给6个小组去栽,每组栽多少棵?

3. 铅笔: 2元, 帽子: 8元, 笔记本: 6元

(1) 笑笑买了8本笔记本,一共花了多少元?

(2) 24元可以买几顶帽子?

(3) 笔记本的价钱是铅笔的几倍?

(4) 你还能提出哪些与倍数有关的数学问题?试着解答出来。

B卷(20分)

1. 想一想,填一填。(每题2分,共8分)

$$8 \times 8 = 8 \times \square + 8 \times \square \quad 3 + 6 + 9 = \square \times 3$$

$$9 \times 5 - 5 = \square \times 5 \quad 7 \times 6 + 6 = \square \times 6$$

2. 填一填。(每题3分,共6分)

$$\triangle + \triangle + \triangle = 18 \quad \bigcirc + \bigcirc + \bigcirc + \bigcirc + \bigcirc + \bigcirc + \bigcirc + \bigcirc + \bigcirc + \bigcirc = 18$$

$$\triangle = (\quad) \quad \bigcirc = (\quad)$$

3. 在右图空格里填数,使横着、竖着、斜着三个数相加的和都是60。(每空1分,共6分)

	24	
	20	
		26