

一年级数学

说明：本试卷分为 A 卷和 B 卷，其中 A 卷满分 100 分，为期末成绩；B 卷 20 分，为参考成绩。请先完成 A 卷后再做 B 卷，完卷时间：50 分钟。

题号	A 卷							B 卷
得分	一	二	三	四	五	六	总分	

A 卷

一、填空。（每空 1 分，共 32 分）

1. 15 的个位上是（ ），十位上是（ ）。一个数的十位上是 2，个位上是 0，这个数是（ ）。


2. 与 5 相邻的两个数是（ ）和（ ），6 和 8 中间的数是（ ），它与（ ）正好可以组成 10。

3. 在 11, 14, 19, 16, 18, 20, 17, 12, 9 这些数中，

(1) 一共有（ ）个数，其中最大的数是（ ），最小的数是（ ）。

(2) 从左数第 4 个数是（ ），从右数第 3 个数是（ ）。

4. 看图写数。



() () () ()

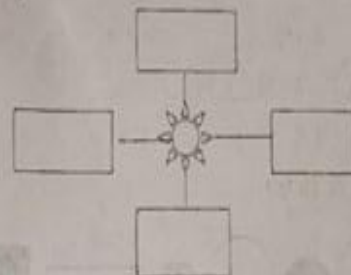
5. 按规律填一填。

14			8	6		
----	--	--	---	---	--	--

6. 在 10, 5, 2, 6, 9, 0, 8 中，把小于 8 的数写在下面。

--	--	--	--

画一面，在 太阳 的右边画（☺），上面画（□），左边画（△），下面画（○）。



二、算一算。（每题 1 分，共 20 分）

$$\begin{array}{ccccc}
 9+6= & 16-6= & 3+10= & 8+9= & 4+8= \\
 15-5= & 19-8= & 3+9= & 5+13= & 17-4= \\
 8-8+5= & 3+6-5= & 3+7-5= & 10-7+3= & 6+4-1=
 \end{array}$$


$$() + 5 = 10 \quad 20 - () = 10 \quad 7 - () = 15 \quad 5 + 5 = () \quad () + 2 = 9 - 1$$

三、判一判，在正确答案后面画“√”，错误答案后面画“×”（每题 2 分，共 10 分）

1. 一位两位数，从左数第一位是个位，第二位是十位。（ ）

2. 最大的两位数是 11。（ ）

3. 右边钟面上显示的时间是 7 时半。（ ）



4. 图中，从右数，○ 排在第 2。（ ）

5. 两根绳子不一样长。（ ）

四、选一选：请把正确答案的选项写在括号里。（每题 2 分，共 10 分）

1. 南瓜、萝卜、茄子作比较： 谁最轻？（ ）



A.

B.

C.

2. 右边物体中（ ）是圆柱。



A.

B.

C.

4. 得数是18的算式是()。

A. $9+9$

B. $7+9$

C. $8+9$


5. 如果 $\star + \triangle = 10$, $\star = 2$, 则 $\triangle = ()$ 。

A. 3

B. 6

C. 8

五、分一分。(每空2分, 共10分)



分法一: _____

分法二: _____

六、生活中的数学。(每式3分, 共18分)

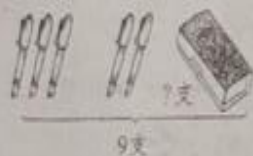
1.



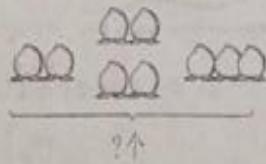
$$\square \bigcirc \square = \square$$

$$\square \bigcirc \square = \square$$

3.




1.



$$\square \bigcirc \square = \square$$

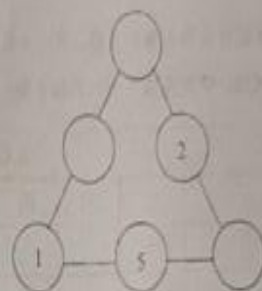
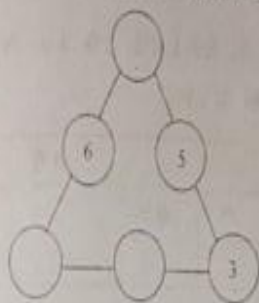
$$\square \bigcirc \square = \square$$

5.



B卷(20分)

1. 填数, 使每条线上的三个数的和都是12。(每空1分, 共6分)



2. 数一数, 填一填。(每空1分, 共4分)



() 个	() 个	() 个	() 个

3. 把0、1、2、3、4、5、6、7、8、9十个数填在口里, 每个数只能用一次。(每空0.5分, 共5分)

$$\square + \square = \square + \square = \square + \square = \square + \square = \square + \square$$

4. 从短到长排一排。(每空1分, 共5分)

